



வலயக்கல்வி அலுவலகம் - வவுனியா வடக்கு

இரண்டாம் தவணைப் பரீட்சை - 2022

சித்திரக்கலை

தரம்: 08

நேரம் - 2.00 மணித்தியாலம்

பகுதி I

- 1 - 5 வரையான வினாக்களிற்கு கீழ்வரும் படத்தினை அடிப்படையாக கொண்டு கீறிட்ட இடங்களை நிரப்புக.



1. தாழ் நாட்டு நடன பாரம்பரியத்துடன் தொடர்புடைய சாந்தி கிரிகையான ஆகும்.
2. தெய்வத்தை ஆதாரமாக கொண்டு மேற்கொள்ளப்படும் கிரியை ஆகும்.
3.போன்ற நோக்கங்களிற்காக இச் சாந்தி கிரியை நடாத்தப்படுகின்றது
4. குருத்தோலையால் அலங்கரிக்கப்பட்ட என்பது கோட்டைக்கு அருகிலேயே அமைக்கப்படும் இன்னொரு அங்கமாகும்
5. அலங்காரங்கள் பொருட்களால் ஆக்கப்படுகின்றன.

(5 × 2 = 10 புள்ளிகள்)

- 6-10 வரையான வினாக்களிற்கு மிகச்சரியான விடையை தெரிவு செய்து அதன் கீழ் கீறிடுக.

6. பள்ளிவாசலினுள் இருபுறத்தேயும் அமைக்கப்பட்டுள்ள உருளை வடிவத்துடன்
1) மிசைரத் 2) எழுத்தாணி 3) டோம் 4) தூபி
7. இந்து ஆலயங்களில் கும்பாபிசேகம் எத்தனை ஆண்டுகளிற்கு ஒரு முறை நடைபெறும்
1) 10 2) 15 3) 12 4) 08
8. சங்கநிதி பதுமநிதி எனும் குள்ள உருவச்சிலைகள் காணப்படும் இடம்
1) ஜேதவனராமய 2) களனி 3) ருவான்வெலிசாய 4) அபயகிரி

9. 17^{ம்} நீளமுடைய பைசான் எருதுவடிவம் காணப்படும் இடம்

- 1) ஆல்ரா மீரா 2) லாஸ்கோ 3) பில்லாவ 4) தந்திரிமலை

10. மட்பாண்ட கைத்தொழிலிற்கு பயன்படும் முக்கியமான கருவி

- 1) கோடரி 2) குறடு 3) வரைசில்லு 4) இயந்திரம்

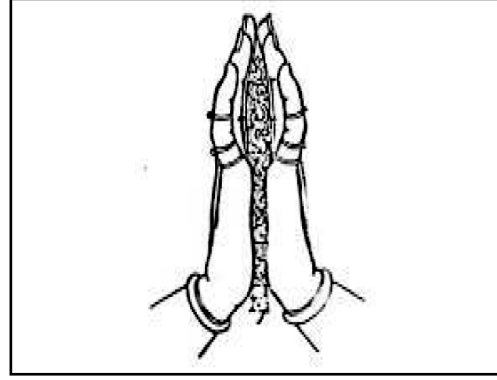
(5 × 2 = 10 புள்ளிகள்)

● 11 - 15 கீழே உள்ள படங்களை இனங் கண்டு பெயரிடுக.

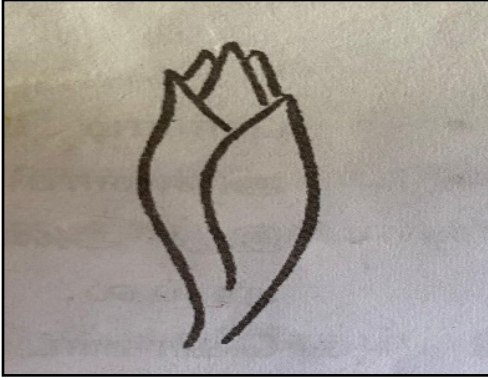
11.




12.



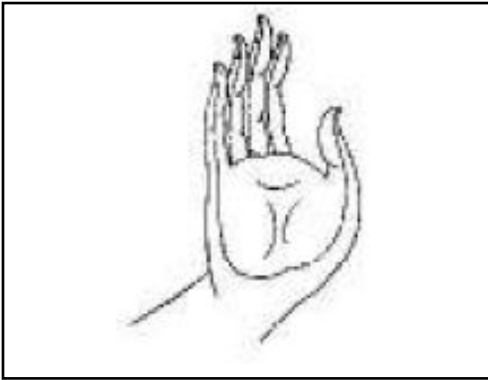
13.



14.



15.



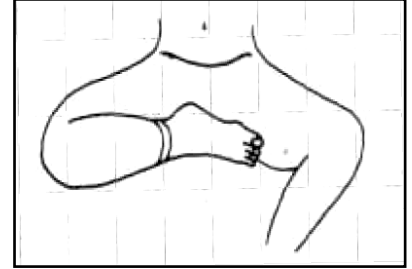
(5 × 2 = 10 புள்ளிகள்)

- 16 - 20 வரை தரப்பட்ட வினாக்களிற் கு எதிரே காணப்படும் நிழற்படங்களில் பொருத்தமானதை தெரிவு செய்க

16.





17.



18.



19.



20.



(5 × 2 = 10 புள்ளிகள்)

- 21 - 25 வரையுள்ள கலைச் சொற்களிற்ரு கருத்தை விளக்கும் வகையில் வாக்கியம் அமைக்குக.

21. தூரதரிசனம்

22. மொசாக்

23. வீரர் மிகா

24. பத்மாசனம்

25. முப்பரிமானம்

(5 × 2 = 10 புள்ளிகள்)

பகுதி II

1) காற்பந்து பெட்டி ஆகிய உருக்களை ரேகை சித்திரமாக வரைக.

(20 புள்ளிகள்)

2) பின்வரும் தலைப்புக்களில் இருந்து விரும்பிய ஒருதலைப்பை மாத்திரம் தெரிவு செய்து வரைந்து வர்ணம் தீட்டுக.

- 1) வனவிலங்கை பார்வையிடும் மனிதர்கள்
- 2) வயல் வேலை செய்வோர்
- 3) சேலைக்கரை அலங்காரம்
- 4) இலைகளைக் கொண்ட சீத்தை துணி ஒன்றுக்கான அலங்காரம்

(30 புள்ளிகள்)